

绝密★启用前

2019 年普通高等学校招生全国统一考试

文科综合能力测试（二）

注意事项：

1、本试卷分第 I 卷（选择题）和第 II 卷（非选择题）两部分。答题前，考生务必将自己的姓名、考生号填写在答题卡上。

2、回答第 I 卷时，选出每小题的答案后，用铅笔把答题卡上对应题目的答案标号涂黑，如需改动，用橡皮擦干净后，再选涂其他答案标号。写在试卷上无效。

3、回答第 II 卷时，将答案填写在答题卡上，写在试卷上无效。

4、考试结束，将本试卷和答题卡一并交回。

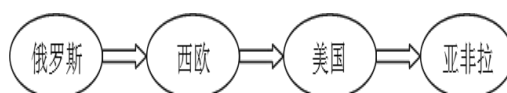
第 I 卷

一、选择题：本题共 35 小题，每小题 4 分，共 140 分。在每小题给出的四个选项中，只有一项是符合要求的。

法国格拉斯是地处阿尔卑斯山南坡约海拔 325 米的特色小镇，它傍山而建，面朝地中海，这里是各种花草的优生地带。该小镇从 16 世纪起发展花卉种植业及香水制造，生产了法国 2/3 的天然芳香，诞生了香奈儿等世界知名香水，被誉为“世界香水之都”。据此完成 1~2 题。

1. 格拉斯成为香水特色小镇的前提条件是当地拥有（ ）
- A. 优越的自然环境 B. 特色知名品牌
- C. 悠久的生产工艺 D. 交通运输便捷
2. 夏季，格拉斯小镇种植花卉的优质灌溉水源主要直接来自（ ）
- A. 大气降雨 B. 地下水 C. 冰雪融水 D. 淡化海水

华为是 1987 年成立于深圳的一家民营企业，长期坚持以客户为中心，不断进行全球布局，积极探索全球创新研发道路，截止 2017 年，华为公司在海外共建立了 16 个研究中心。经过 30 年的发展，华为已成为中国创新型企业的代表，也是目前全球最大的通信设备制造商。下图示意华为公司海外研发布局的变化趋势。据此完成 3~5 题。



封

密

不

订

装

只

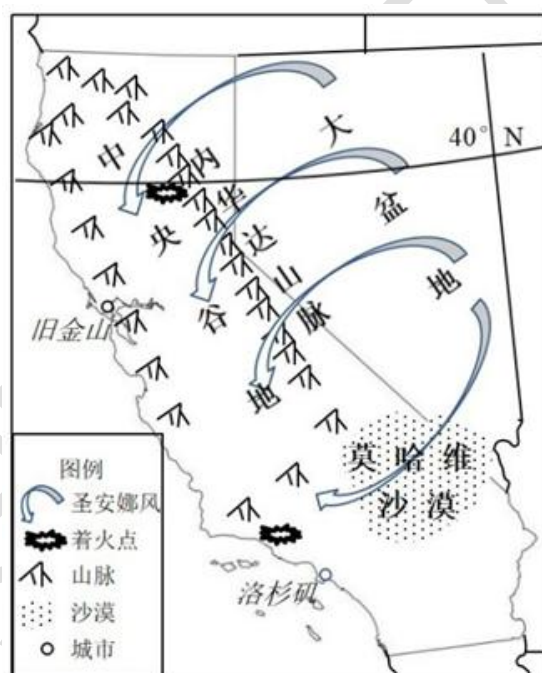
卷

此

班级姓名准考证号考场号座位号

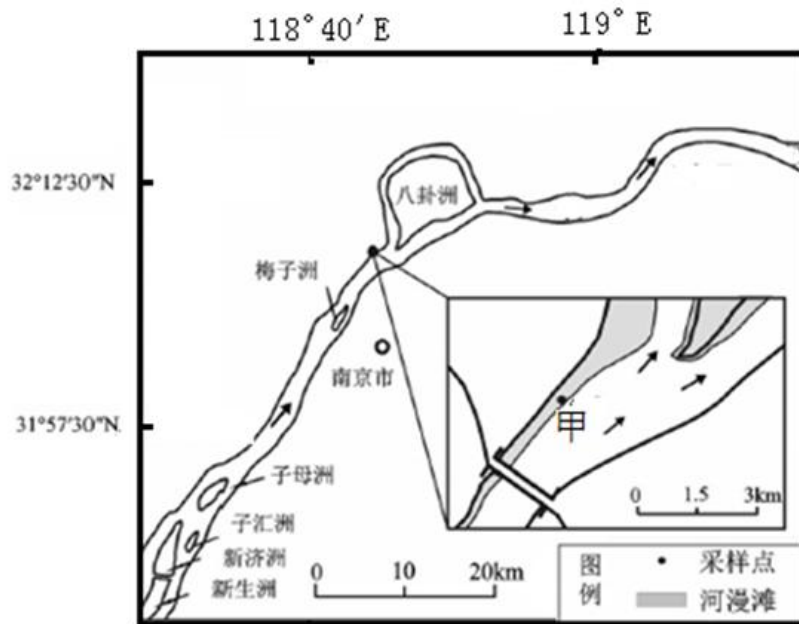
3. 华为进行海外研发投资具有明确的()
- A. 市场导向 B. 技术导向 C. 资源导向 D. 劳动力导向
4. 华为海外研发投资首选俄罗斯而非欧美国家, 主要是因为俄罗斯()
- A. 科技发达, 消费市场广阔 B. 资源丰富, 且与中国毗邻
- C. 环境优美, 基础设施完善 D. 地广人稀, 优惠政策支持
5. 华为在亚非拉地区的研发中心很少。下列国家中华为重点投资的对象是()
- A. 韩国 B. 南非 C. 印度 D. 巴西

每年秋季, 美国加利福尼亚州(下称加州)易出现山林火灾。下图为 2018 年 11 月加州山火分布示意图, 此次山火造成了巨大的人员伤亡和财产损失。“圣安娜风”特指秋冬季节从大盆地向西南扫过加州的一种风, 对所经过的山林火灾影响极大。据此完成 6~8 题。

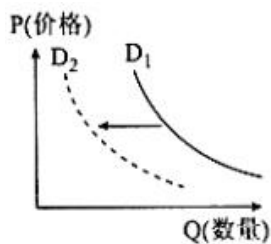


6. 形成“圣安娜风”的气压或风带是()
- A. 陆地冷高压 B. 副热带高压 C. 盛行西风 D. 极地东风
7. 到达加利福尼亚州着火点的“圣安娜风”的性质是()
- A. 低温干燥 B. 高温干燥 C. 低温湿润 D. 高温湿润
8. 秋季, 美国加利福尼亚州林区多火灾的主要原因是()
- ①多雷电天气 ②多受焚风效应影响 ③多枯枝落叶 ④多家庭燃木取暖
- A. ①③ B. ②③ C. ①④ D. ②④

河漫滩位于河床主槽一侧或两侧，在洪水时被淹没，枯水时出露的滩地。读图，完成 9~11 题。



9. 符合该段河流水文特征的是()
- A. 水流急, 流量大
- B. 水流缓, 流量大
- C. 水流缓, 有凌汛
- D. 水流急, 流量小
10. 某地质爱好者在甲地取样, 发现河床垂直剖面上有鹅卵石与细沙共存现象, 原因可能是()
- A. 该河段地势起伏大, 河流落差大
- B. 该河段河道平直, 流水侵蚀能力强
- C. 洪水流动过程中流速变化大
- D. 不同季节的洪水流速变化大
11. 近年来甲地河流堆积物颗粒粒径变得细而均匀, 可能是该区域()
- A. 耕地面积扩大
- B. 降水量有所增加
- C. 植被覆盖率提高
- D. 大力开发旅游业
12. 下图反映的是一定时期内某商品的需求量(Q)与价格(P)关系变化的情况。在其他条件不变的情况下, 下列选项中的经济现象可能会引起曲线 D1 向曲线 D2 变动的有()



- ### ①性价比更高的 5G 手机上市，对 4G 手机需求量的影响

- ②某市发生非洲猪瘟疫情，市民对牛肉需求量的影响
- ③取消新能源汽车增值税优惠，对新能源汽车需求量的影响
- ④高铁提高运行速度，对航空客运需求的影响

A. ①③ B. ①④ C. ②③ D. ②④

13. 2018年7月15日，国家药品监督管理局发布通告指出，长春长生生物科技有限公司冻干人用狂犬病疫苗生产存在记录造假等行为。12月11日，长生公司收到《深圳证券交易所重大违法强制退市事先告知书》。2019年1月，吉林长春长生公司问题疫苗案件相关责任人被严肃处理。这一事件对药企的启示有()

- ①完善市场规则，健全社会信用制度 ②克服市场缺陷，建立安全监控体系
- ③加强经营管理，增强产品质量意识 ④承担社会责任，诚实守信合法经营

A. ①② B. ①③ C. ②④ D. ③④

14. 2018年6月13日，国务院召开的全国深化简政放权放管结合优化服务改革电视电话会议明确今年要全面落实结构性减税政策，切实减少涉企收费。下列结构性减税对经济影响的传导中,正确的是()

- ①降低企业所得税起征点→减轻企业税收负担→促进经济发展
- ②推进资源税改革→提高资源开采和使用成本→促进资源节约和环境保护
- ③营业税改增值税→减轻企业税收负担→经济持续健康发展
- ④增加财政补贴→支持企业提高科学技术→提高产品质量

A. ①② B. ②③ C. ①④ D. ③④

15. 2018年9月15日，据海关统计，2018年前8个月，我国货物贸易进出口总值19.43万亿元人民币，比去年同期（下同）增长9.1%。其中，出口10.34万亿元，增长5.4%；进口9.09万亿元，增长13.7%；贸易顺差1.25万亿元，收窄31.3%。这说明我国()

- ①创新对外贸易方式，优化进出口商品结构 ②主动开放市场，对外开放水平不断提高
- ③进出口对全球经济增长的贡献率增加 ④减少了贸易顺差，促进了对外贸易平衡

A. ①② B. ①③ C. ②④ D. ③④

16. 2019年3月15日，广东省中山市某社区就“汽车乱停乱放”的处理方案召开居民代表大会。社区居委会主任向大会宣读初步方案，代表们就方案进行了询问并提出修改意见，最后大会对该方案进行投票表决。该社区的这一做法()

- ①扩大了民主管理的权利，提高了民主决策效率
- ②落实了居民依法直接行使民主管理的权利

③维护了公民的基本民主权利，增强了主人翁意识

④有利于推动社区治理，人民主体地位得到尊重

A. ①② B. ①③ C. ③④ D. ②④

17. 2018年12月24日，李克强主持召开国务院常务会议强调，要持续深化“放管服”改革、优化营商环境，进一步激发市场活力和社会创造力。做到对违法者“利剑高悬”，对守法者“无事不扰”。这就要求政府()

①提高工作效率，服务社会发展 ②坚持依法行政，强化管理职能

③切实履职尽责，规范权力行使 ④提高治理效能，增强政府权威

A. ①③ B. ①④ C. ②③ D. ②④

18. 2018年7月7日，全国人大常委会执法检查组来到山东省就农产品质量安全法实施情况进行执法检查，全国人大农业与农村委员会对动物防疫法开展执法调研。检查组在济南召开座谈会，听取省政府及有关部门工作汇报。这表明()

①全国人大常委会是全国人大的执行机关 ②全国人大常委会是我国最高权力机关

③人民代表大会制度实行民主集中制原则 ④全国人大常委会积极行使监督权

A. ①② B. ②④ C. ①③ D. ③④

19. 2019年中央一号文件指出，要切实保护好优秀农耕文化遗产，要重视与发掘农业文化遗产的价值，让农业文化遗产“活”起来。这就要求我们()

①适应时代发展需要，合理适度利用 ②要发挥其对农业发展的决定性作用

③要进行创造性转化和创新性发展 ④要注重社会效益与经济效益的统一

A. ①② B. ③④ C. ①③ D. ②④

20. 2019年2月5日科幻电影《流浪地球》上映，该电影给出了一个不同于过往西方流科幻作品的叙事道统，提供了明显带有农耕文明孕育下的中国方案，海内外影院都处于爆满的上座状态。这部科幻电影之所以能受到海内外影迷的喜爱是因为()

①文化既是民族的，又是世界的 ②借鉴外来文化优秀成果是创新的基本途径

③中华文化博大精深、源远流长 ④题材创新是文化发展的源泉

A. ①③ B. ①④ C. ②③ D. ②④

21. 随着经济社会发展和实践深入，我们对中国特色社会主义总体布局的认识不断深化，从当年的“两个文明”到“三位一体”、“四位一体”，再到今天的“五位一体”，这一深刻转变体现了()

①真理是具体的、无条件的 ②真理都有自己适用的条件和范围

③认识具有无限性和上升性 ④对同一事物的认识会产生主体差异

A. ①③ B. ①④ C. ②③ D. ②④

22. 2019年3月8日,在参加河南代表团审议时,习近平对实施乡村振兴战略工作作出重要部署时强调指出,要树牢绿色发展理念、补齐农村基础设施这个短板、夯实乡村治理这个根基,习主席的讲话表明()

①部分与整体相互联系,密不可分 ②发挥意识的作用促进乡村治理

③一切事物都无条件的处于联系之中 ④绿色发展理念是实现乡村振兴的关键

A. ①② B. ①③ C. ②④ D. ③④

23. 国家主席习近平 2019 年 3 月 18 日上午在京主持召开学校思想政治理论课教师座谈会并发表重要讲话。习主席强调思政课教师,要给学生心灵埋下真善美的种子,引导学生扣好人生第一粒扣子。这是因为()

①价值观对人们实践具有导向作用 ②社会意识具有相对独立性

③价值观能促进学生的健康发展 ④价值选择会因时间地点和条件为转移

A. ①② B. ③④ C. ②③ D. ①④

24. 据《左传》记载郑师合以攻之,王卒大败,祝聃射王中肩。公曰:君子不欲多上人,况敢陵天子乎!苟自救也,社稷无陨,多矣。这表明周代()

A. 儒家思想的影响力减弱

B. 分封制遭到严重破坏

C. 诸侯进行兼并战争

D. 宗法制度的完全崩溃

25. 春秋战国时期墨子提出“兼爱”,“非攻”,“尚贤”等思想,古希腊哲学家柏拉图也在《理想国》也提出了自己的思想,两者思想共同体现了()

A. 重视智慧发展

B. 强调理性思考

C. 主张维护等级秩序

D. 提倡贤者治国

26. 公元前 399 年,经过随机抽签的方式,选出 501 人,组成陪审团,负责审判苏格拉底,在规定的时间内,苏格拉底为自己做了辩护,陪审团经过两轮投票,最终以多数票判处其有罪。材料说明()

A. 雅典已形成了较为完整的民主程序

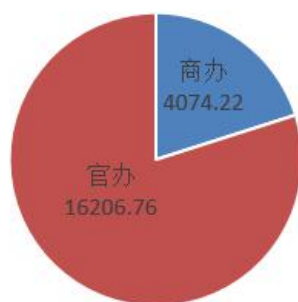
- B. 雅典审判结果不公正
- C. 雅典公民文化素质有待提高
- D. 雅典的民主是奴隶主专政

27. 据统计, 整个《新青年》中, 有关“科学”一词出现了 1913 次, 而“民主”一词只出现 305 次, 加上“德先生”之类的提法, 也只有 513 次, 由此体现新文化运动()

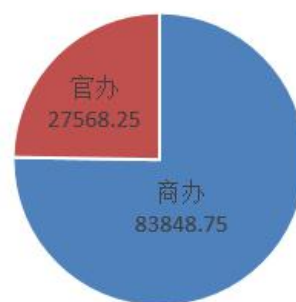
- A. 崇拜西方文明的科学性
- B. 科学已成为文化斗争的武器
- C. 宣传社会科学普及的重要性
- D. 树立自然科学的权威性

28. 如图是 1872~1900 年官办和商办工矿企业变化情况。出现图中变化的主要原因是()

1872~1894年工矿企业资本总额(千元)



1885~1900年工矿企业资本总额(千元)



- A. 官僚地主的积极参与
- B. 受外商企业利润的诱导
- C. 政府经济政策的变化
- D. 自然经济开始崩溃

29. 下图为 1955 年的一幅漫画《圆的和扁的》, 画中字为单干户的孩子说: “看, 人家都是圆的, 咱们什么都是扁的!” 该漫画意在()



- A. 赞扬“一五计划”取得巨大成就
 - B. 表明三大改造的基本完成
 - C. 肯定社会主义经济优越性
 - D. 批评农业的浮夸现象
30. 据载，孙中山在 1895 年广州起义失败后割了辫子，袁世凯在就任临时大总统的前夕割了辫子，而张勋复辟却保留了辫子这说明()
- A. 革命过程受到顽固派的阻扰
 - B. 辛亥革命开启近代社会习俗变革潮流
 - C. 辫子去留成为当时是否革命的风向标
 - D. 儒家思想对中国影响巨大
31. 在中国代表团的努力下，日内瓦会议通过《日内瓦会议最后宣言》：实现印支半岛和平，确认了三国的民族权利，但是关于朝鲜问题，中国虽然也尽了努力由于受到美国代表的阻扰，以未通过任何协议而结束。这些做法()
- A. 是大国协商解决争端问题的尝试
 - B. 新中国外交政策走向成熟的标志
 - C. 打破了美国遏制孤立中国的政策
 - D. 表明中国实行和平的外交政策
32. 1951 年，法国、西德、意大利、比利时、荷兰及卢森堡在巴黎签订了《欧洲煤钢联营条约》，1957 年六国又签订了《欧洲经济共同体条约》和《欧洲原子能共同体条约》，但是英国拒绝参加该组织的谈判。其原因主要是()
- A. 受传统自由经济思想的影响
 - B. 英国和这些国家矛盾尖锐
 - C. 欧洲一体化趋势逐渐加强
 - D. 拥有资源和海外市场的优势
33. 2004 年，德国个人所得税的起征点为单身家庭年收入 7664 欧元，已婚家庭年收入 15328 欧元。但以下情况可以减税：已婚家庭拥有 18 岁以下子女，或者子女在 27 岁以下但仍在上学，子女没有收入的；向德国机构捐助政治款项或者慈善款项；不可抗拒的特殊高额开支（如生病）。德国此举()
- A. 体现了德国福利制度的完善
 - B. 表明了德国经济发展最迅速

- C. 有助于德国社会的公平公正
- D. 减少了德国社会矛盾的产生
34. 美国总统特朗普上台后奉行“美国优先”战略，与各国大打“贸易战”，并迫使美国各跨国公司从海外回流本土，实施了一系列贸易保护政策，一些发达国家也采取了一系列逆全球化举措，逆全球化趋势愈发明显。这表明全球化进程中()
- A. 发展中国家成为主要受益者
- B. 逆全球化成为国际主流现象
- C. 新的国际经济秩序已经形成
- D. 发达国家主导地位受到冲击
35. 下侧框内所描述内容为某美术流派具有的一些特征。下列作品中反映该流派作品的是()

△不主张用画笔吃力地写实风景或肖像
△不用纯粹的颜色和形状认识日常对象
△利用下意识表达猛烈的情绪和形状
△绘画的目的不是反映现实而是创造现实

- A. 《自由引导人民》
- B. 《播种者》
- C. 《格尔尼卡》
- D. 《日出·印象》

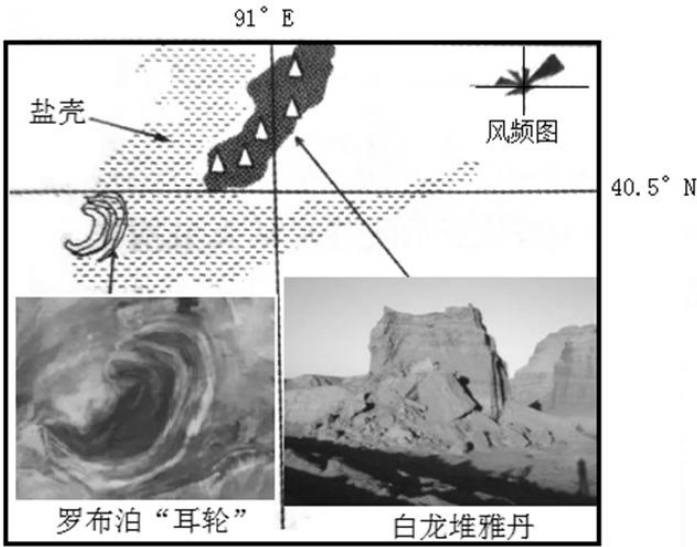
第Ⅱ卷

二、非选择题：共 160 分。第 36~42 题为必考题，每个试题考生都必须作答。第 43~47 题为选考题，考生根据要求作答。

(一) 必考题：共 135 分

36. 阅读图文材料，完成下列问题。(24 分)

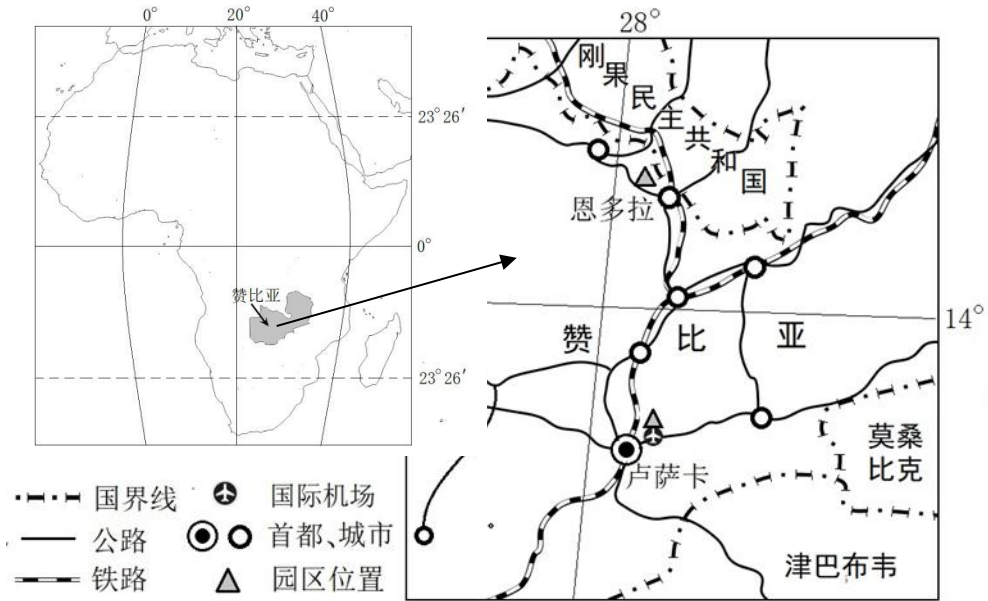
罗布泊曾经是中国第二大内陆湖，现今已干涸，地表受河流冲蚀和风蚀作用形成网状的干河谷和雅丹地貌交织分布。白龙堆雅丹地貌(靠近天山前山带)分布在罗布泊东北一带，主要是在白色砂泥岩夹石膏层为主的湖相沉积物的基础上发育的，高 10~20 米，长 200~500 米，也有长达数千米的。白龙堆雅丹地貌北部沉积物中有丰富的盐类物质，这是有别于其他区域内雅丹地貌的沉积物特征。



- (1) 简析罗布泊“耳轮”的成因。(6分)
- (2) 说明白龙堆雅丹地貌的延伸方向。(6分)
- (3) 简述白龙堆雅丹地貌的形成过程。(6分)
- (4) 有人认为白龙堆雅丹地貌是风力侵蚀、流水侵蚀共同作用的结果。你认为正确吗？说明理由(6分)

37. 阅读图文材料，完成下列要求。(22分)

赞比亚是南部非洲最早与中国建交的国家。赞比亚-中国经济贸易合作区是我国在非洲设立的第一个境外经贸合作区，也是赞比亚第一个多功能经济区，总规划面积17.28平方千米。该合作区分为两个园区(如下图)：谦比希园区位于铜带省中部，以铜矿开采冶炼、有色金属加工及其配套、衍生产业群为主；卢萨卡园区以现代物流、商贸服务、加工制造、房地产业等为主。截至2018年9月，入区企业有50余家，区内企业累计实现销售收入超过140亿美元，为当地创造了近8000个就业岗位，开创了中国企业集群式“走出去”的新模式。



- (1) 简述我国在非洲设立第一个境外经贸合作区首先在赞比亚的原因。(4分)
- (2) 说明赞比亚-中国经贸合作区采用“一区两园”方式的主要目的。(6分)
- (3) 据图分析卢萨卡园区发展现代物流业的优势条件。(6分)
- (4) 为了提高谦比希园区有色产业集群式发展的经济效益，请提出合理的措施。(6分)

38. 阅读材料，完成下列要求。(14分)

材料：2019年3月8日，中共中央总书记、国家主席、中央军委主席习近平参加十三届全国人大二次会议河南代表团的审议。习近平指出，河南作为农业大省，农业特别是粮食生产对全国影响举足轻重。要发挥好粮食生产这个优势，立足打造全国重要的粮食生产核心区，推动藏粮于地、藏粮于技，稳步提升粮食产能，在确保国家粮食安全方面有新担当新作为。耕地是粮食生产的命根子。要强化地方政府主体责任，完善土地执法监管体制机制，坚决遏制土地违法行为，牢牢守住耕地保护红线。要推进农业供给侧结构性改革。发挥自身优势，抓住粮食这个核心竞争力，延伸粮食产业链、提升价值链、打造供应链，不断提高农业

质量效益和竞争力，实现粮食安全和现代高效农业相统一。要树牢绿色发展理念。推动生产、生活、生态协调发展，扎实推进农村人居环境三年整治行动，加强农业生态环境保护和农村污染防治，统筹推进山水林田湖草系统治理，完善农产品产地环境监测网络，加大农业面源污染治理力度，开展农业节肥节药行动，完善农产品原产地可追溯制度和质量标识制度，严厉打击食品安全犯罪，保证让老百姓吃上安全放心的农产品。做好“三农”工作，对河南具有重要意义。

结合材料，运用经济生活的知识，说明河南省应如何做好“三农”工作，促进河南农业高质量发展。

39. 阅读材料，完成下列要求。（12分）

材料：经中央批准，2018年4月1日至10日，中央扫黑除恶专项斗争完成对天津、吉林、浙江、安徽、江西、湖南、广西、海南、贵州、云南、新疆等11个省（区、市）和新疆生产建设兵团的进驻工作，中央扫黑除恶专项斗争第二轮督导工作全面启动。

中央各督导组在督导动员会上强调，要坚持以习近平新时代中国特色社会主义思想为指导，增强“四个意识”、坚定“四个自信”、坚决做到“两个维护”，充分发挥中央督导“利剑”威力，紧督依法严打、紧督“打伞破网”、紧督“打财断血”、紧督责任担当，推动扫黑除恶再掀新一轮强大攻势。要聚焦政治站位，推动各地强化担当、压实责任，以有力的行动将党中央决策部署落到实处；要聚焦案件办理，推动各地严格把握法律政策，坚持依法办案，攻坚侦办一批大要案件，深挖彻查“保护伞”，坚决摧毁黑恶势力经济基础。切实维护好一方平安稳定。

结合材料，运用政治生活的知识，分析党中央开展扫黑除恶专项斗争的依据。

40. 阅读材料，完成下列要求。（26分）

材料：近日全国政协委员、中国文联副主席潘鲁生就“发展乡村特色文化产业”提出了一些具体的建议。潘鲁生指出，民间文艺是千百年来人民群众的智慧创造，来自生产生活，内容非常丰富。要盘活传统文化资源，首先要尊重传统文化资源自身的发展规律、内涵和特色，必须保护和传承传统文化资源的本元、本质、本真价值，以原真性为基础，避免破坏性开发。在此基础上，我们要着眼当代生活，文化的传承发展，只有存续在老百姓的生活里才是“活”的文化。我们要充分认识传统文化资源在今天生活中的价值和作用，充分考虑今天人们的生活方式、文化需求和审美习惯。随着生产生活方式变化，以往贴窗花的窗纸窗棂变成了宽大的玻璃窗，刺绣也不再是日常女红；剪纸里富有文化意味的图案纹样、美好寓意以及包含的

地方特色、乡土气息、生活记忆，都使其成为富有特色的民族文化样式。总之，我们需要植根生活，遵循文化规律，发挥创造力，不断创意、开拓传统文化资源在今天生活中的发展空间、发展路径和发展动力，这非常重要。

(1) 结合材料，运用文化生活的相关知识，分析推动乡村特色文化产业的发展原因。(10分)

(2) 结合材料，分析潘鲁生在推动乡村特色文化产业的发展的建议中，蕴含了哪些辩证法思想。(10分)

(3) 请就如何促进乡村特色文化产业的发展，提出三条合理化建议。(6分)

41. 阅读材料，完成下列要求。(25分)

材料一晋商具有爱国热情，为报效朝廷，常常参与朝廷的平叛与防务活动，捐钱出人都比较踊跃。在国家危难之时，晋商常常直接参与国家的军事行动，保家卫国。晋商的爱国情怀还表现为力争主权。清末，晋商的票号名声逐渐开始衰落，但是他们并没有因此而萎靡不振，依然和全省人民共同团结，全心全力，与想独霸矿权的外国商人（主要是英国商人）进行了长达十几年抗争，始终不屈不挠，最终从英商手中赎回山西煤权，保护了山西的煤矿资源，同时，晋商还舍利取义，回报社会。很多晋商在创业经商积累一定财富之后都会仗义行施、购药治病、架桥修路、接济孤寡、扶持穷苦等。

——摘编自廖启云、李忠民《晋商责任意识的基本内容探析》

材料二当时的商人已不再拘泥于士农工商的传统定位，他们将自己誉为社会的中坚，自豪地表示：“今日实业之世界，论人数以商界为至众，论势力以商界为最优。”有的声称：“今日之商家，实操我民族存亡起废之权者也”有的指出“追文明进步，出产丰富，器用繁多，万国交通，因利生利，而商人居中控御，握一国之财政权，而农、工之有大销场，政界之有大举动，遂悉唯商人是赖。”

——摘编自朱英《近代中国商人思想观念的发展演变》

材料三在当代中国，一些企业家将儒家的伦理道德用来指导和规范企业的经营管理行为，同样获得了巨大的经济效益和社会效益。从2016年（第六届）中国商业文化与管理学术会议上公布的“2016年中国儒商风范企业50强榜单”上，就有华为电子、海信电器、海尔集团等知名企业，这五十家企业的儒商风范凸现出儒商文化和儒商精神在当代仍具有其不朽

的价值。目前我国国家正处于由传统社会向现代社会转型的关键时期，在当下的市场经济社会中由于中国传统商业伦理的缺失，各种商业欺诈行为和假冒伪劣产品层出不穷，在这个时候重提和重振儒商精神就显得格外重要。

——黄鹰《儒商精神及当代价值》

- (1) 根据材料一并结合所学知识，概括明清时期商会出现的特征并分析其原因。(12分)
- (2) 根据材料一、二并结合所学知识说明近代商会出现的背景。(8分)
- (3) 根据材料三并结合所学知识分析儒商精神对社会主义现代化建设的作用。(5分)

42. 阅读材料，完成下列要求。(12分)

材料在唯物史观下，恩格斯提出了历史“合力论”。他认为虽然经济因素在历史发展中起到决定性作用，但历史合力才是社会发展的终极原因。历史合力即是说历史是所有主客观因素在一定的社会历史条件下共同参与、相互作用的结果，是其作为一个整体的产物。这些因素既包含了政治、经济、社会意识、文化思想等上层建筑中多种因素相互作用所产生的影响，也包含影响历史进程的各个主体之间不同意识相互角力的作用，正是它们形成一种合力共同推动历史的发展。

请运用上述理论，并结合所学知识，选择适当的角度，谈谈你对中国近代社会转型（总体或者某一方面）的认识。（要求：写明论题，中外关联，史论结合。）

（二）选考题：共 25 分。请考生从 2 道地理题、3 道历史题中每科任选一题作答。如果多做，则每科按所做的第一题计分。

43. 【地理——选修 3：旅游地理】(10 分)

乡村振兴发展典范的成都市郫都区战旗村，近年来积极打好传统文化牌，争创 AAAA 级景区。2018 年 8 月 8 日，位于村口处的“乡村十八坊”开街，郫县豆瓣、蜀绣、唐昌布鞋等多项非物质文化遗产传统技艺正式入驻。2019 年春节假期，每天

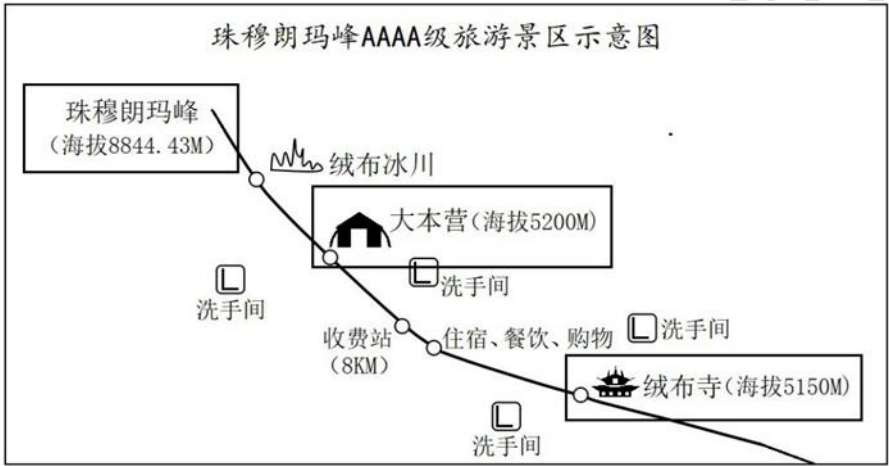


有上万游客涌入战旗村。游客既可以参观每个坊的工艺产品生产过程，又可以参与工艺产品制作的互动体验，还可以购买传统技艺产品。各坊传承人采用古老工艺流程制作，呈现一店一故事，一店一传奇的文化特色，让游客在现场感受到浓郁的川西传统文化风韵。

说明“乡村十八坊”开街对促进战旗村旅游业发展的益处。(10分)

44. 【地理——选修 6：环境保护】（10 分）

2019 年 2 月 14 日新华网报道，日前西藏日喀则市定日县珠峰管理局发布公告，禁止任何单位和个人进入珠穆朗玛峰国家级自然保护区绒布寺以上核心区域旅游（如下图）。据了解，2018 年环卫工冒着生命危险清理珠峰海拔 5200 米以上的垃圾达到 8.4 吨，十年前可以延伸到珠峰大本营的壮观冰川已经不见踪影，脆弱的珠峰面临着环保风险。



说明珠峰绒布寺以上核心区域垃圾多的原因及禁止进入的主要环保目的。（10 分）

45. （历史选修 1：历史上重大改革回眸）（15 分）

材料新中国成立初期，北京城区失业、无业人口有 40 万~50 万，约占城区总人口的 20%。

无法维持生活的贫民多是“以摆小摊贩卖零食、手工业、蹬三轮、开小店、理发等为业的”，还有部分是要手艺、卖报、出卖零星苦力的。北京市遂于 1950 年成立救济工作办公室，民政局制定了《北京市贫民救济方案》《北京市贫民调查登记办法》的法规，开始对其进行生活救助，主要形式为临时生活救助和定期生活救助，也有作为补充形式的救助方法，如冬令救助、修房救助、医疗救助，以及邻里之间、居委会内部的互助等。随着各级政权的巩固，各种救助向着制度化、规范化方向发展。北京对城市贫民的救助从实际出发，解决了他们生活中的主要困难。这充分体现了新政权对所有社会资源的掌控，任何社会群体都无法游离于政府之外。

——摘编自李小尉《新中国成立初期城市贫民的生活救助研究》

- (1) 根据材料，指出新中国成立初期北京城市贫民救助的特点。(7分)
- (2) 根据材料并结合所学知识，分析新中国成立初期北京城市贫民救助运动的意义。(8分)

46. (历史选修3：20世纪的战争与和平)(15分)

材料到1940年12月中旬，英国政府实际上已经没有资金购买武器。这一情况使罗斯福政府采取了一种既可以帮助英国继续战斗，又不违背美国形式中立的方法，并提交给国会讨论。美国国会经过长时间辩论，于1941年3月10日通过了租借法案。租借法的正式名称为《加强美国防务法》，该法案规定：授权总统可以售卖、转移、交换、租赁、借出或交付任何军事物资，给美国总统认为与美国国防有重要关系的国家政府。

对于租借法案，美国总统杜鲁门曾有高度的评价：“毫无疑问，《租借法》所花费的钱拯救了许多美国人的生命。通过《租借法》而装备起来的每个俄国、加拿大和澳大利亚的士兵，当他们投入战斗的时候，就会大大减少我国青年在争取战争胜利中所面临的危险。”

——摘编自郝健《二战期间美国对华和对苏租借援助的比较研究》

- (1) 根据材料并结合所学知识，指出美国制定租借法案的背景及目的。(8分)
- (2) 根据材料并结合所学知识，简析美国实施租借法案的历史作用。(7分)

47. (历史选修4：中外历史人物评说)(15分)

材料龚自珍(1792-1841)，浙江仁和人，是清代著名的进步思想家和文学家。他认为科举考试使得大批士子将“少壮之力，早耗于禄利之签缔”中，属于穷途末路，“上书乞改功令，以收真才”。真才须“有胸肝，有胸肝则必有耳目”，感慨激奋者无论“居上位”或“居下位”，皆可引领社会发展。他以汉唐明主待臣以礼，给人才丰厚俸禄的事例，劝诫当朝君主能以其为榜样，对贤者提供优厚待遇以重人才，为此，发出“我劝天公重抖擞，不拘一格降人才”的呐喊声。龚自珍的人才思想即便是在当下仍具有启迪意义。

——摘编自沈岐《龚自珍人才思想浅析》

- (1) 根据材料，概括龚自珍人才思想的主要内容及其实质。(8分)
- (2) 根据材料并结合所学知识，分析龚自珍人才思想形成的原因。(7分)